

Groenseijkerstraat 27

6161 SC Geleen



stadspost
geleen

20% TOT 50%

GOEDKOPER

DAN DE P.T.T.

Stadspost is: - Legaal


- Voordelig

- Vriendelijk

- SNEL

☎ 04494 ~ 44388

Schaakklub "FORTUNA"



Eerste jaargang - Nummer

2

3 SEP. 1985


OFFICIEEL

CLUB-ORGaan

Café - Hotel Stadion

WIL KOCK

TEVENS
VERGADERZAAL



Om de 2 maanden SCHAAKFESTIVAL !

Mauritslaan 2 . Telefoon 04494 - 43648

VAN DE REDACTIE.....

Hallo schaakvrienden !!!

Terwijl ik nog steeds op de zomer (nazomer dan) aan het wachten ben, schrijf ik de volgende regeltjes.

Bij de heer Eyk kan men nog steeds terecht wat betreft het nabestellen van de foto's van onze kampioensteams.

Dan blijven suggesties voor de naam van ons clubblad welkom, evenals tips over de inhoud ervan. De heer v/d Kerkhof zou graag reacties hebben ten aanzien van zijn puzzelhoek.

De rubriek "Problematiek" is er de volgende keer weer met een opdracht.

En dan, mensen niet boos worden, de indeling voor de eerste ronde van de interne competitie is gebaseerd op de laatste ronde van vorig seizoen, dus niet op de eindstand over het seizoen 84/85. Vervolgens vindt u in deze editie een intelligentietest, de bedoeling is dat u die in een half uurtje probeert op te lossen zonder hulpmiddelen! De goede antwoorden worden uiteraard in het volgende nummer gepubliceerd. Er zijn geen prijzen te winnen, maar u beleeft veel lol aan deze test. De redactie wenst u komend seizoen veel schaakplezier!

John List en Rob Zink.


Het eindspel.

Bij het gewone schaakspel wordt het eindspel vaak bepaald door tijdnood van één (of beide) speler(s). Vooral ondergetekende heeft er weleens last van. Ik verheug me dan ook op leuke eindspelen, die tijdens mijn correspondentiepartijen ontstaan. Een voorbeeld volgt hieronder.

F.Hanssen - W.Goedhart. (provincie-competitie)
Stand na zwarts 30^e zet: (zie ook het diagram ↓)
Wit: Kf3, Ta1, Pd4 en pi. op a2-b3-e3-f4-g3 en h3.
Zwart: Kc5, Th8, Pe4 en pi. op a6-d5-f7-g6 en h5.

31) Tc1+ Kb6, op Kb4 volgt Tc7. 32) f5 gxf5?
Zwart krijgt nu allemaal "losse" pionnen en de witte koning kan de zwarte stelling binnendringen. Beter was g5, waarna Pd2 dreigt.


33) Pxf5 Pg5+, verklaart zwarts vorig zet.
De witte koning is echter niet van plan naar g2 te gaan. 34) Kf4 Pxf3+ 35) Ke5 Td8 36) Pe7 Te8. Vergelijk eens de stand van de twee paarden: wits paard staat erg sterk; zwarts paard staat aan de rand van het bord. 37) Kf6 en zwart verliest altijd een pion, ... Td8 38) Kxf7 Pg5+



39) Kg6 Pe4, hoe meer pionnen er verdwijnen, des te groter zwarts kansen op remise. 40) Tg1 Pc3? Het paard wil weer op pionnenroof aan de rand van het bord; beter lijkt mij Tf8, bv. Kxh5 - Tf3!
41) Kxh5 Pxa2 42) g4, deze g-pion is erg sterk. De toren staat achter de pion zoals het hoort.
42)... Kc5, op weg naar pion b3. 43) Ta1! Pb4
44) g5 Kd6 45) Pf5+ Ke5 46) Tf1 Th8+?

Beter was Tf8; wit speelt dan 47) Kg4 en op 47)... Pc6 volgt dan 48) Tf4. De partij ging echter verder met 47) Ph6 Pc6 48) Tf6, nu staat de witte toren prachtig! Let ook op de zwarte koning die afgesneden is en niet meer bij de g-pion kan komen. Zwart kon uiteraard opgeven. 48)... Pb8 49) Kg6 Ke4 50) Te6+ Kf3 51) Pf7! Th2. Op Tg8 volgt Kh7. Het beste was Tc8, en wit speelt dan Kg7.

52) Pe5+ en zwart geeft op.
Rechts staat het slotdiagram.
Op Kg3 of Kf2 volgt Te8 en 't zwarte paard valt. Op Kxe3 volgt natuurlijk Pg4+. 1 - 0
Succes met jullie clubblad!
Frans Hanssen. Redactie:Frans,
bedankt voor je bijdrage!



Dan nu: na inspanning,
Ontspanning!

Wat staat er op het graf van een ambtenaar?
Hier rust hij VERDER.

UIT DE OUDE DOOS.....

Redactie: Dr. Selman, Oranjeplein 2, Kerkrade.

Limburgs Dagblad van 21 januari 1939.

Er zijn van die spelers, die een geweldige vindingrijkheid bezitten in het zetten van valstrikken voor de tegenpartij. Kort geleden kwamen we een partijtje tegen, waarin de witte stukken gevoerd werden door den Jugoslovaak V. Vukovic, een bekend listig speler. En in deze partij stelt Vukovic zijn tegenstander een zoo'n verleidelijk en verborgen valletje, dat bij het naspelen menig-
een denkt: "Daar was ik ook glad ingevlogen!!"

Wit: V. Vukovic Zwart: Dr. E. Deutsch.

Gespeeld te Agram in 1920, Spaansche partij.

1.e4 e5 2.Pf3 Pc6 3.Lb5 Pf6 (zooals bekend speelt men gewoonlijk a6, doch ook Pf6 is goed) 4.d4 exd4 5.e5 Pe4 6.Lf4 f5 7.Lxc6 dxc6 8.Dxd4 Dd5 9.Pc3 Da5

Zwart vermijdt afruil, om partij te trekken van zijn geweldig paardje op e4. 10.Tad1 Le7 11.Ld2 Db6 12.Pe2! Een duivelsche val! Wat had u gespeeld?

U had toch waarschijnlijk ook gedacht, dat wit een fout maakte, en hetzelfde gedaan als Dr. Deutsch, tenzij u Vukovic kende!! 12 ... Lc5! (nietwaar? De winnende zet! Pas eens even op! Wit bezorgde zijn tegenstander bijna een beroerte door

mat aan te kondigen in 6 zetten!) 13.Dd8+!! Kxd8 14.Lg5++ Ke8 15.Td8+ Kf7 16.e6+ Kxe6 17.Pf4+ Kf7 18.Pe5 mat! Zoo'n partijtje is de droom van

elken schaakspeler!

6

KEOHNEBOM

Een pastoor vraagt aan een jongetje de weg naar Maastricht. Zegt dat jongetje: "Die weg weet ik wel, maar ik vertel het u niet". Zegt die pastoor: "Maar dan kom je niet in de hemel!" Het jongetje weer: "En u niet in Maastricht!"

Moeder: "En denk er wel aan, Wimpie, je moet altijd bereidwillig zijn. We zijn in de wereld om anderen te helpen". Wimpie: "Dat is goed. Mams, maar waar zijn die anderen dan voor?"

Een voetballer van FC Knudde komt in Sittard om eindelijk Fortuna Sittard eens te zien voetballen. Maar hij verdwaalt in de grote stad en vraagt aan een voorbijganger: "Ach meneer, weet u misschien hoe ik bij Fortuna kom?" De man kijkt hem eens aan en zegt dan: "Trainen, meneer, veel trainen!"

Gelukkig zij, die over zichzelf kunnen lachen, want zij vervelen zich nooit.

Als men boos is

"Nu is het uit met onze verloving! Zoek maar een dommere dan ik. Maar je zult er niet gemakkelijk een vinden"

Wat staat er op het graf van een tandarts?

Hier vult hij zijn laatste gat.

7

AAN DE TAND GEVOELD

Naam: Verlaan
Voornaam: Tonny
Geboren op: 24 mei 1933
Plaats: Amsterdam
Sterrebeeld: Tweeling
Heeft een hekel aan: Negativelingen
Is gek op: Alles wat prettig is
Favoriete schaker(ster): Katie ven der Meije
Favoriete schaakclub: Fortuna
Waarom? : Er heerst een gezellige sfeer en ze zijn allemaal even enthousiast
Stankroeg: Geen
Doet u iets aan sport: Zwemmen en wandelen
Favoriete radio/tv-omroep: Geen
Favoriet boek: Visie en denkwijze van een paranormale door Marius Inderfurth
Favoriete film: Geen
Favoriet voedsel: Vegetarisch
Wat denkt u van onze schaakclub? Als boven
Wat zou er verbeterd kunnen worden in onze club?
Ik ben tevreden
Uw grootste wens: Om gezond te blijven
Sinds wanneer bent u lid van de "Fortuna-familie"?
Vanaf april '85

Wederom werd dit interview door John List afgenomen.

Bindstand Triatlon

Vorige week dinsdag werd een triatlon-experiment gelanceerd, dat voor veel verbaasde gezichten zorgde. Men moest 6 partijen spelen, te weten: 3 snelschaakpotjes van 7 minuten p.p.p.p., toen 2 rapidspelletjes van 20 minuten p.p.p.p. en tot slot een ...-partij van 1 uur p.p.p.p. Dit alles geschiedde volgens het "Zwitser System".

1 E.v.Steenbergen	10	16 P.List	4½
2 F.Hanssen	9	17 W.Belt	4
3 A.Kühles	8	H.Kusters	4
C.v.Vliet	8	P.Rameckers	4
5 L.Duysens	7	J.Spork	4
H.Hemler	7	21 H.Cloots	3
C.Rutten	7	J.Hemler	3
8 R.v.Dinteren	6½	A.Heijnen	3
9 H.Marwa	6	24 A.Beks	2
R.Randasche	6	A.Bruijns	2
P.v.Zuijlen	6	M.Remmers	2
12 W.Bauwens	5	27 J.Starmans	1
J.List	5		
P.Vergoossen	5		
R.Zink	5		

P.S. : Voor een snelschaakpartijtje kon je 1 punt verdienen (als je won), voor een rapidpartijtje 2 punten en voor de "uur-partij" zelfs 3, dit even voor de volledigheid.

Groepsindeling 1e ronde interne competitie 85/86.

Groep A

- 1 E.v.Steenbergen
- 2 R.Zink
- 3 P.v.Dinteren
- 4 W.Belt
- 5 R.Randasche
- 6 C.v.Vliet

Groep C

- 1 A.Beks
- 2 W.Bauwens
- 3 P.List
- 4 H.Marwa
- 5 J.Spork
- 6 R.v.Dinteren

Groep E

- 1 J.Hemler
- 2 J.Starmans
- 3 J.List
- 4 H.Cloots
- 5 P.Rameckers
- 6 C.Eyk

Speelschema's:

- 1e ronde: 1-6 2-5 3-4
 2e ronde: 6-4 5-3 1-2
 3e ronde: 2-6 3-1 4-5
 4e ronde: 6-5 1-4 2-3
 5e ronde: 3-6 4-2 5-1

Groep B

- 1 F.Hanssen
- 2 L.Duysens
- 3 H.Hemler
- 4 C.v.d.Kerkhof
- 5 H.Kusters
- 6 J.-P.Kraal

Groep D

- 1 H.Moors
- 2 P.v.Zuylen
- 3 M.Neurkens
- 4 C.Rutten
- 5 A.Heijnen
- 6 A.Kühles

Groep F

- 1 A.Bruijns
- 2 P.Vergoossen
- 3 J.Lambrichs
- 4 R.Leenen
- 5 C.De Bie
- 6 M.Remmers
- 7 T.Verlaan

- 1-8 2-7 3-6 4-5
 8-5 6-4 7-3 1-2
 2-8 3-1 4-7 5-6
 8-6 7-5 1-4 2-3
 3-8 4-2 5-1 6-7

Het linkse schema is voor groepen van 6,
 het rechtse voor groepen van 7 of 8 spelers.

BERT INTIEM



SNOEPJE

Axel - Lepschic, Joegoslavië 1975.
Scandinavisch.

1.e4 d5 2.exd4 Pf6 3.c4 c6 4.dxc6? ...

Wit moest hier met d4 in een variant van de Caro-Kann verdediging proberen te komen.

Na de pionwinst komt wit in een passieve stelling.

4 ... Pxc6 5.Pc3 e5 6.g3? ... Beter is d3.

6 ... Lc5 7.Lg2 Pg4 8.Pe4 Db6 9.Pxc5 Dxc5

10.De2? ... Hardnekkiger was Ph3, ook al komt zwart dan na Dxc4 in 't voordeel.

10 ... Pd4 11.De4 ... (of 11.Dd3 Pc2+ 12.Dxc2

Dxf2+ 13.Kd1 Dxc2) 11 ... Lf5 12.Dxb7 Pc2+

13.Kd1 Pxf2+ 14.Ke2 Ld3+ 15.Kf3 Pe1 en mat.

Schitterend.

KEOHNEPOM

-Een man komt bij een psychiater en klaagt:

"Ik kan me niets meer herinneren, dokter, geen datum, geen telefoonnummers en niet eens wat ik gisteren gedaan heb".

Dokter: "Sinds wanneer heeft U dit probleem?"

Man: "Welk probleem?"

-Wat staat er op het graf van een doodgraver?

"Wie een kuil graaft voor een ander"

INTELLIGENTIE-TEST

1.Hoeveel maanden hebben 28 dagen?

2.Een boer heeft 17 schapen. Allen, met uitzondering van 9 gaan dood. Hoeveel houdt hij er levend over?

3.Bestaat 5 december ook in Duitsland?

4.Ergens staat een huis. Elke zijde heeft uitzicht op het zuiden. Er loopt een beer voorbij. Welke kleur heeft die beer?

5.Wiens portret staat op een vijf gulden biljet?

6.Is het in ons land toegestaan, dat een man met de zuster van zijn weduwe trouwt?

7.Kan iemand die ten westen van de Mississippi woont, ten oosten van de Mississippi begraven zijn?

8.Hoeveel dieren van elke soort nam Mozes in zijn ark mee?

9.Deel 30 door $\frac{1}{2}$. Tel er 30 bij op. Wat is de uitkomst?

10."Je bent mijn zoon. Ik ben echter niet je vader". Wie zei dit?

11.In 1912 werd een munt gevonden met het opschrift: "46 voor Christus". Hoe oud is die munt nu?


12.Krijgt een nachtwaker pensioen als hij overdag sterft?

13.Iemand gaat een donkere kamer binnen met een doosje lucifers. Hij wil de krant gaan lezen. In de kamer is een petroleumlamp, een kaars en een open haard. Wat steekt hij het eerst aan?

14. Een slimme Belg, een werklustige Surinamer, Sinterklaas en Zwarte Piet zitten samen aan de bar. De volgende morgen wordt de barkeeper dood aangetroffen. Een kogel door het hoofd. Wie is de dader?
15. Ergens is een put van 20 meter diep. Onderin zit een slak, die naar boven wil. Ze klimt overdag 5 meter omhoog, maar 's avonds daalt ze 4 meter. Hoeveel dagen doet ze er over om uit de put te geraken?
16. In een kamer, waar het (ook al) donker is, staat een kast vol kousen. 50 rode en 50 zwarte. Je hebt de kast op de tocht gevonden. Hoeveel kousen moet je er minimaal uithalen om er zeker van te zijn dat je eenzelfde paar hebt?
17. Een schilder moet op 100 kamers het kamernummer schilderen. Hoeveel keren moet hij het getal 7 schilderen?
18. Het dek van een boot is vanaf het water met een trap van 15 treden te bereiken. Afstand tussen de treden is 30 cm. Het word vloed en het water stijgt 1.20 meter. Met hoeveel treden komt men nu op het dek?
19. Op een doos van een kousenfabriek staat aangegeven: "12 dozijn".
Hoeveel kousen zitten er in die doos?
20. Als er 3 gulden liggen en je neemt er 2 af, hoeveel guldens heb je dan?
21. Inkoop f 1,00 Winst 1000%. Wat is de verkoop?
22. Een boomstam van 4 meter lengte moet in 5 stukken gezaagd worden. Over elk stuk zaagt men 4 minuten. Hoeveel minuten duurt dit karweitje?
23. Wanneer je een kilometer loopt met een snelheid van 2 km. per uur en dan 4 km. fietst met 8 km. per uur, hoelang doe je er dan over om 5 km. af te leggen?
24. Vul drie keer een 6-letterig woord in:
Een vogel vliegt in de
Een vliegtuig dat ik
Een jongen bezorgt een meisje een
25. Noem 5 opeenvolgende weekdays, echter zonder het woord dag te gebruiken.
26. Hussel de volgende letters doorelkaar en vorm daaruit twee synoniemen:
enigrevolver - deeleng.
27. Welk Nederlands woord heeft de meeste medeklinkers naast elkaar?
28. Een boer gaat naar de markt met zes zeven en acht koeien. Hij verkoopt twee koeien. Hoeveel koeien heeft hij over?
29. Aan een weg is een wei, waarin een 5 jaar oude dode koe ligt. Er tegenover ligt een wei waarin een 15 jaar oude stier ligt. Wat klopt hier niet?
30. Een toegift, om nog hoger op de IQ-schaal te komen
Wat betekenen de volgende afkortingen?
1BB + 1BB = 1BB, 1BA + 1BB + 1BH = 3BB.

PROBLE MATIEK

Dan nu eindelijk de oplossing van het mat-in-zeven probleem van 30 april j.l. De stelling staat voor de volledigheid hiernaast nog eens afgebeeld.



Zwart begint en wint

Wit dreigt Ph2-g4 met materiaalwinst, zwart moet dus snel iets bedenken. Welnu:

- 1) ... Te3-e1+!
- 2) Th1xe1 Dc7xc2+! uiteraard moet de dame genomen worden, anders is het op de volgende zet mat.
- 3) Kb1xc2 Pe6-d4+ en de koning mag niet naar d1. anders is het mat op de volgende zet. (Pa4xb2)
- 4) Kc2-b1 Pa4-c3+, vluchten met de koning naar a1 levert mat op na Pd4-c2!

Dus moet het paard geslagen worden:

- 5) b2xc3 Tg8-b8+
- 6) Le4-b7 Tb8xb7+ en tot slot
- 7) Kb1-a1 Pd4-c2+ en mat. Mooi zo, klaar.

De hele clou zit hem in de eerste zet, het toren-offer is nodig om een vichtveld aan de witte koning te ontnemen, want dan zou wit wel na Pd4+ naar d1 kunnen vluchten en vervolgens naar e1, en ja dan ging deze hele offerserie natuurlijk niet op.

GOKKEN DOE JE MET DE TOTO. NIET MET JE HYPOTHEEK.



DAAROM MAAKT HET BOUWFONDS EEN EIND AAN ALLE ONZEKERHEID.

✿ Bouwfonds voor Limburgse Gemeenten (BLG)